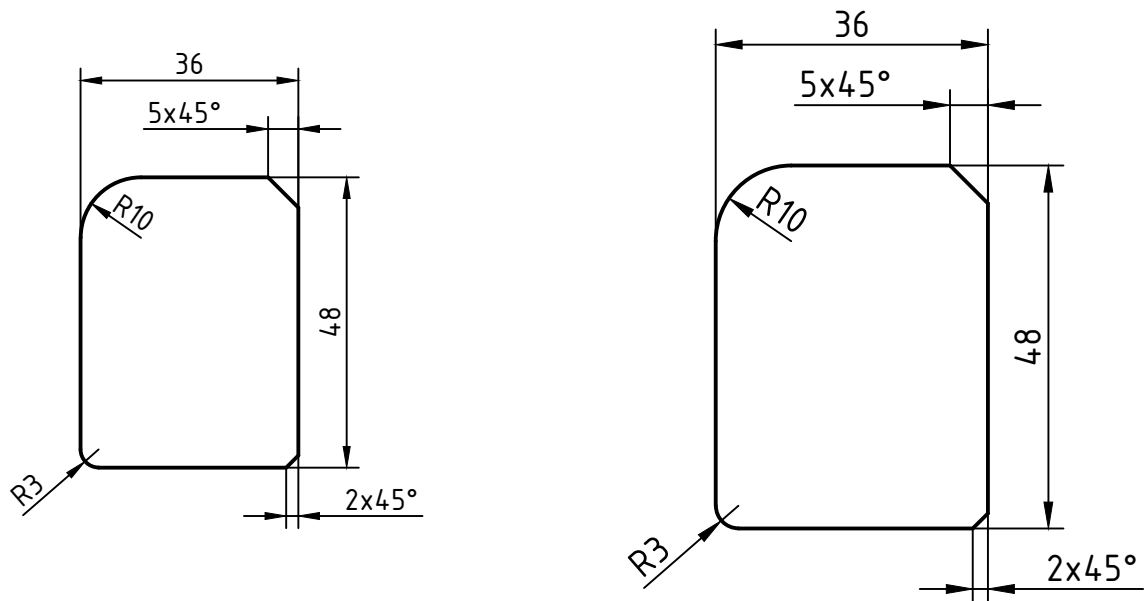
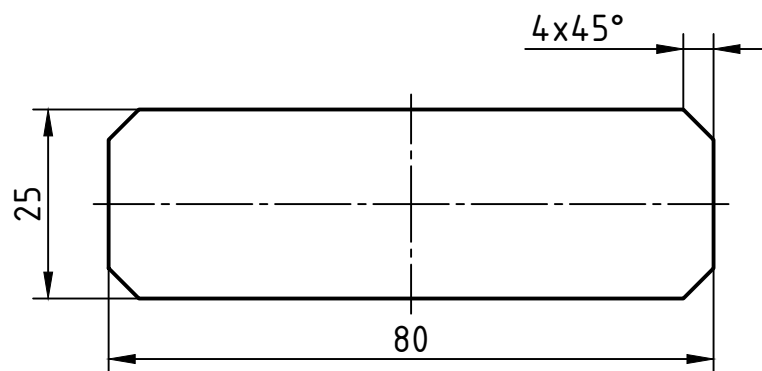


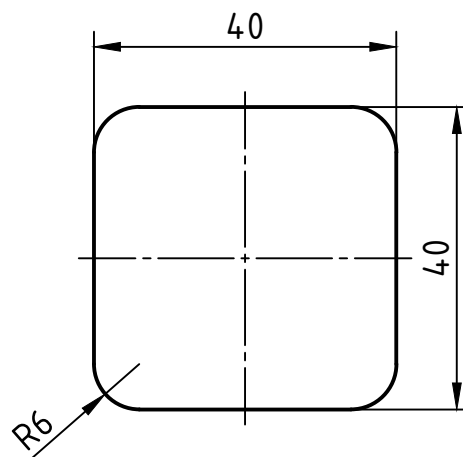
Zeichne das Werkstück mit Bemaßung nach:



Konstruiere ein Rechteck mit 80x25mm und fase die Ecken mit 4mm ab. Bemaße es vollständig!



Konstruiere ein Quadrat mit 40x40mm und runde die Ecken mit 6mm ab. Bemaße es vollständig!



Polytechnische Schule Klagenfurt		Datum	Name	Klasse K
	Gezeichnet:	13.11.2014	Maier Andreas	
	Geprüft:			
M 1:1	Fasen und Abrunden			Zng.-Nr. Ü08-2